

Įdomiosios užduotys trečiokams


Atlikęs užduotį parodyk mokytojai- užsidirbsi taškų.

1.

Vytautas su tėčiu autobusais išvažiavo priešingomis kryptimis. Po 2 valandų tarp jų buvo 180 km atstumas. Koks atstumas tarp jų bus po 5 valandų?

2 t.

Sprendimas:

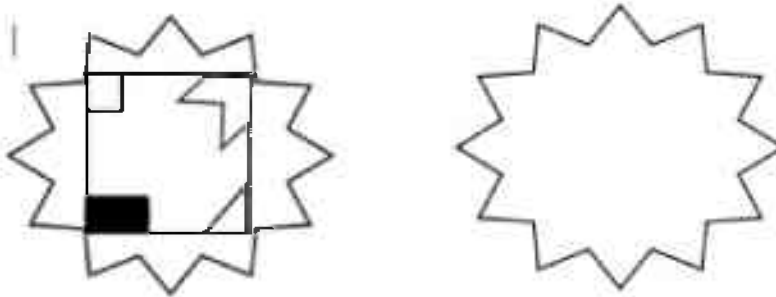


Atsakymas: _____

2.

Piešinyje pavaizduotas kvadratas sukasi pagal laikrodžio rodyklę ir per valandą apsisuka 1 kartą. Pavaizduok kvadrato padėtį po 5 h 15 min.

1 t.



3.

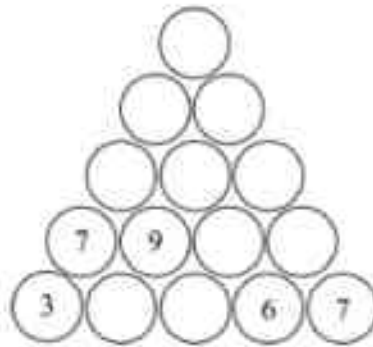
Tomas dėlioja žalias ir mėlynas kaladėles į dėžutes, į kurias telpa po 10 kaladėlių. Jis turi 156 vienos spalvos kaladėles ir 194 kitos spalvos. Kiek dėžučių prireiks visoms kaladėlėms supakuoti, jei į kiekvieną dėžutę dedamos tik vienos spalvos kaladėlės?

1 t.

Atsakymas: _____

4.

Į kiekvieną tuščią apskritimą įrašyk skaičių, kuris būtų lygus sumai dviejų skaičių, esančių po tuo apskritimu.



5 t.

5.

Petriukas zoologijos sode pirmą sykį pamatė kengūras. Pastebėjo, kad kiekviena turi 4 letenas, 2 ausis, 1 uodegą. Jis suskaičiavo visas letenas, ausis, uodegas ir gavo skaičių 63. Kiek kengūrų buvo užtvare?

Sprendimas

Ats.:

2 t.

6.

Aušrinė su mama šventei turi pagaminti 140 angelų. Mama per valandą pagamina 3 angelus, o Aušrinė - 2 angelus. Kiekvieną dieną dirba po 2 val. Per kiek dienų jos pagamins visus angelus?

1 t.

Atsakymas: _____

7.

Linksmo būdo kaimietis pasakoja: „Auginu vištas ir triušius. Kai skaičiuoju savo augintinių galvas, priskaičiuoju jų 100. Kai skaičiuoju kojas, priskaičiuoju jų 320. Kiek turiu vištų?“

2 t.

Atsakymas: _____

8.

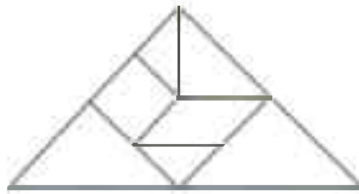
Kiek sveria visi gyvūnai?



Atsakymas: _____

9.

Kiek matai trikampių piešinyje?



a) 4

b) 5

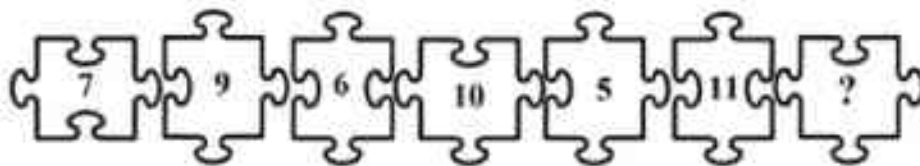
c) 6

d) 7

e) 8

10.

Atrask, kokį skaičių įrašyti vietoj klausuko?



a) 3

b) 4

c) 8

d) 12

e) 13
